

SULIT
1249/1
Sejarah
SEPT
2009
1 Jam

1249/1



JABATAN PELAJARAN MELAKA

Dengan kerjasama

PERSIDANGAN KEBANGSAAN PENGETUA-PENGETUA
SEKOLAH MENENGAH MALAYSIA
CAWANGAN NEGERI MELAKA

PEPERIKSAAN PERCUBAAN

SIJIL PELAJARAN MALAYSIA 2009

SEJARAH

Kertas 1

Satu jam

JANGAN BUKA KERTAS SOALAN INI SEHINGGA DIBERITAHU

Kertas soalan ini mengandungi 16 halaman bercetak

SULIT

16/05/2009. Hak cipta Jabatan Pelajaran Melaka

(Lihat sebelah

1249/ 1

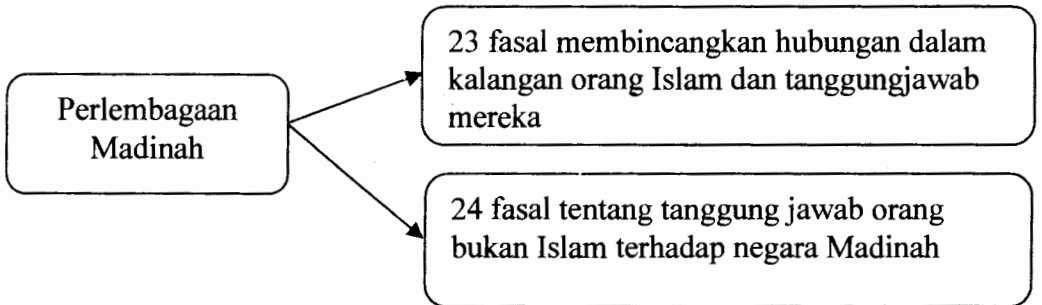
- 1 Tokoh berikut memainkan peranan penting dalam perkembangan Tamadun Mesir.

Tokoh	Peranan
Imhotep	Penasihat Firaun Djoser (3150 S.M)

Apakah sumbangan tokoh tersebut?

- A Mencipta teknologi tuas
 - B Penemuan kaedah tanaman
 - C Memperkenalkan tiang batu
 - D Penggunaan bata dalam binaan
- 2 Mengapakah peluang pendidikan semasa kerajaan Mesir Purba hanya diberikan kepada kanak-kanak daripada keluarga atasan sahaja?
- A Meningkatkan status bangsawan
 - B Melahirkan pegawai kerajaan
 - C Mementingkan pendidikan sempurna
 - D Menggalakkan golongan atasan belajar
- 3 Apakah persamaan sistem pemerintahan demokrasi Yunani dengan yang diamalkan di Malaysia hari ini?
- A Raja sebagai ketua kerajaan
 - B Dewan Rakyat meluluskan belanjawan
 - C Rakyat terlibat dalam pemerintahan negara
 - D Dewan Negara diterajui oleh Perdana Menteri

- 10 Rajah di bawah berkaitan dengan perlembagaan negara Madinah semasa pemerintahan kerajaan Islam.



Pada pendapat anda, mengapakah perlembagaan tersebut mempunyai fasal-fasal tertentu?

- A Menyusun masyarakat sistematik
 - B Mendapatkan kerjasama rakyat
 - C Melicinkan sistem pentadbiran
 - D Menjadikan negara kuat
- 11 Apakah peranan Baitulhikmah yang ditubuhkan semasa pemerintahan kerajaan Bani Abbasiyyah?
- A Pusat pentadbiran
 - B Pusat perdagangan
 - C Pusat penterjemahan
 - D Pusat penyelidikan

- 15 Konsep daulat dapat memantapkan institusi beraja semasa zaman Kesultanan Melayu Melaka.

Bagaimanakah konsep tersebut dikukuhkan?

- I Bahasa
- II Pakaian
- III Permainan
- IV Keturunan

- A I dan II
- B I dan IV
- C II dan III
- D III dan IV

*Siakap senohong gelama ikan duri,
bercakap bohong lama-lama mencuri*

- 16 Apakah kepentingan pepatah tersebut dalam pendidikan tidak formal masyarakat Melayu tradisional ?

- A Mengekalkan sastera lisan
- B Mengajar membina pantun
- C Menerap unsur pengajaran
- D Menentukan bentuk hukuman

- 17 Ajaran Martin Luther dikenali sebagai mazhab Protestan yang berasal daripada perkataan *protesting* yang bermaksud membantah.

Apakah isu yang dibantah oleh beliau ?

- A Penyembahan keramat
- B Penumpuan alam akhirat
- C Sikap angkuh pihak gereja
- D Penjualan sijil indulgences

- 4 Negara kota Sparta di Yunani sangat menekankan aspek patriotik dalam kalangan rakyatnya.

Bagaimanakah semangat patriotik tersebut disemaikan?

- A Mementingkan aspek ketenteraan
 - B Menjalankan dasar penaklukan
 - C Menggunakan cara paksaan
 - D Melalui sistem pendidikan
- 5 Senarai berikut merujuk kepada pelabuhan utama kerajaan awal di Asia Tenggara.

PELABUHAN PEMBEKAL



- Jenderam Hilir
- Kuala Berang
- Kuala Selinsing

Apakah fungsi pelabuhan tersebut ?

- A Menjadi pusat pengumpulan hasil laut
 - B Menjalankan aktiviti membaiki kapal
 - C Menjalankan kegiatan perdagangan
 - D Membekal bahan berasaskan logam
- 6 Apakah bukti yang menunjukkan masyarakat Kedah Tua menganuti agama Hindu dan kemudiannya beralih kepada agama Buddha ?
- A Majoriti masyarakatnya beragama Hindu dan Buddha
 - B Pengamalan kebudayaan berteraskan Hindu dan Buddha
 - C Penemuan wang syiling berunsur Hindu dan Buddha
 - D Kewujudan candi berunsur Hindu dan Buddha

- 12 Tokoh berikut memainkan peranan penting dalam pemerintahan kerajaan Turki Uthamanyah.

* Mehmed al-Fanari
* Molla Lutfi
* Katip Celebi

Apakah persamaan sumbangan tokoh tersebut ?

- A Penulis ensiklopedia
 - B Pengamal perundangan
 - C Penasihat kerajaan
 - D Pakar perubatan
- 13 Pernyataan berikut menerangkan tentang kedatangan Islam ke Asia Tenggara.

Batu mamar pada batu nisan di perkuburan
Malik Ibrahim di Gerisik Jawa

Maklumat tersebut membuktikan bahawa Islam datang menerusi

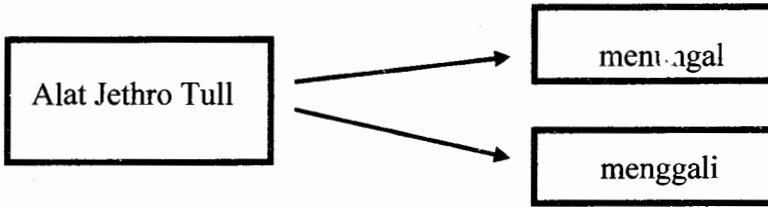
- A China
 - B India
 - C Arab
 - D Mesir
- 14 Maklumat berikut menerangkan perkembangan pendidikan Islam di Kepulauan Melayu.

• Pesantren
• Dayah
• Pondok

Apakah kepentingan institusi tersebut?

- A Tempat golongan raja menuntut ilmu
- B Tempat beribadat menggantikan masjid
- C Tempat mempelajari agama secara formal
- D Tempat persinggahan sementara para pendakwah

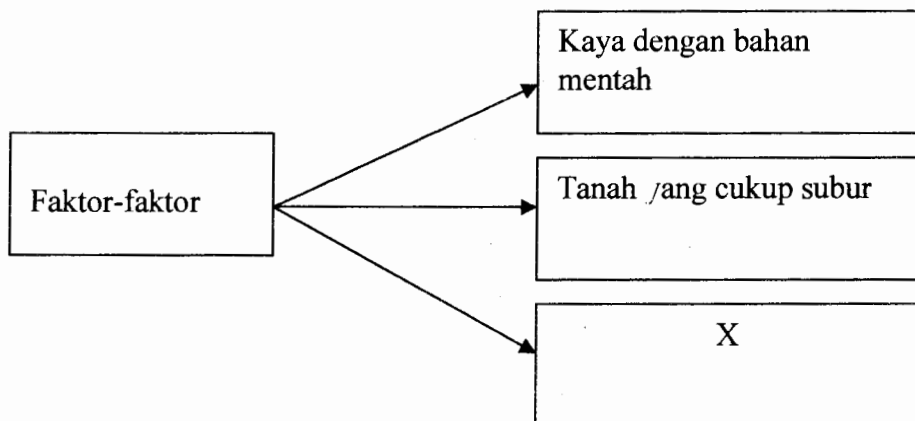
- 18 Rajah di bawah berkaitan dengan perkembangan di Eropah semasa Revolusi Pertanian.



Apakah kepentingan ciptaan alat tersebut?

- A Mempercepatkan penanaman biji benih
 - B Meningkatkan kuantiti hasil pengeluaran
 - C Meluaskan penggunaan baja asli
 - D Mengurangkan tenaga manusia
- 19 Apakah kesan pelaksanaan Akta Tanah Simpanan Melayu 1913 ke atas penduduk peribumi di Tanah Melayu?
- A Keselamatan harta individu terjamin
 - B Penerusan aktiviti pertanian tradisional
 - C Mendapat hak pengecualian cukai tanah
 - D Keluasan tanah milik kekal bertambah
- 20 Mengapakah British berusaha untuk menghalang orang Melayu daripada terlibat dengan tanaman getah di Tanah Melayu pada kurun ke 20?
- I Menjimatkan perbelanjaan kerajaan
 - II Mengurangkan pengeluaran hasil
 - III Menjaga kepentingan peladang luar
 - IV Mengawal mutu hasil keluaran
- A I dan II
 - B I dan IV
 - C II dan III
 - D III dan IV

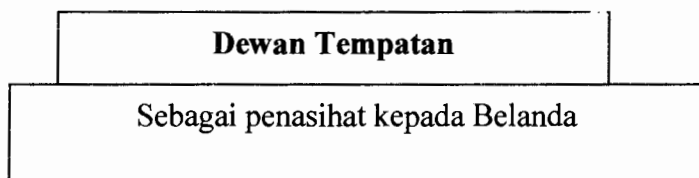
- 21 Maklumat berikut berkaitan dengan faktor-faktor imperialis Barat untuk menguasai Asia Tenggara pada kurun ke -19.



Apakah X ?

- A Pasaran sangat luas
- B Kuasa beli penduduk tinggi
- C Kewibawaan intelektual rakyat
- D Pembolotan hasil kesusasteraan

- 22 Maklumat berikut berkaitan dengan perubahan pentadbiran oleh Belanda di Indonesia .



Mengapa dewan tersebut gagal berfungsi dengan berkesan ?

- A Penglibatan rakyat tempatan terhad
- B Halangan sistem politik tradisional
- C Tentangan dari golongan agama
- D Pengabaian bidang kuasa perundangan

- 12 Tokoh berikut memainkan peranan penting dalam pemerintahan kerajaan Turki Uthamanyiah.

* Mehmed al-Fanari
* Molla Lutfi
* Katip Celebi

Apakah persamaan sumbangan tokoh tersebut ?

- A Penulis ensiklopedia
 - B Pengamal perundangan
 - C Penasihat kerajaan
 - D Pakar perubatan
- 13 Pernyataan berikut menerangkan tentang kedatangan Islam ke Asia Tenggara.

Batu mamar pada batu nisan di perkuburan
Malik Ibrahim di Gerisik Jawa

Maklumat tersebut membuktikan bahawa Islam datang menerusi

- A China
 - B India
 - C Arab
 - D Mesir
- 14 Maklumat berikut menerangkan perkembangan pendidikan Islam di Kepulauan Melayu.

• Pesantren
• Dayah
• Pondok

Apakah kepentingan institusi tersebut?

- A Tempat golongan raja menuntut ilmu
- B Tempat beribadat menggantikan masjid
- C Tempat mempelajari agama secara formal
- D Tempat persinggahan sementara para pendakwah

23 Anda dapati di Indonesia, anak golongan priyayi diberikan pendidikan yang tersendiri dan diasingkan daripada anak orang kebanyakan.

Apakah kesan tindakan Belanda tersebut?

- A Menghakis amalan tradisi tempatan
- B Memecahkan perpaduan rakyat tempatan
- C Memelihara ekonomi pembesar tempatan
- D Mencetuskan gerakan nasionalisme tempatan

24 Apakah isu yang diutarakan dalam majalah berikut yang diterbitkan pada tahun 1930.

Majalah	Pengarang
Bulan Melayu	Zainon Sulaiman

- A Memajukan kesusasteraan tempatan
- B Membaiki taraf hidup orang Melayu
- C Menggalakkan wanita mendapat pendidikan
- D Menghargai peninggalan warisan bangsa Melayu

25 Pada abad ke 19 telah lahir golongan orang Melayu yang mampu berfikir perkara-perkara berikut:

- Berfikir tentang kemajuan bangsa
- Menggunakan idea baru untuk merajukan bangsa
- Menolak penjajahan barat.

Bagaimanakah keadaan tersebut boleh terjadi ?

- A Pelaksanaan pendidikan Inggeris
- B Peningkatan taraf ekonomi rakyat
- C Inspirasi golongan bangsawan
- D Kemajuan prasarana

26

Count Camillo Benso di Cavour - Itali
Otto Eduard von Bismarck - Jerman

Mengapa kedua-dua tokoh di atas dikenang dalam sejarah hingga kini ?

- A Memartabatkan raja
- B Menghalang peperangan
- C Membina empayar yang luas
- D Membentuk negara bangsa

27 Undang-undang berikut merupakan perlembagaan bertulis pertama di Terengganu.

Perkara	Undang-undang Tubuh Kerajaan Terengganu <i>[Ittiqan – ilmuluk bi – ta'dil il -- suluk]</i>
Diperkenalkan oleh	Sultan Zainal Abidin

Apakah faedah yang diperolehi oleh kerajaan Terengganu daripada pengenalan undang-undang bertulis tersebut ?

- A Mengekalkan amalan demokrasi
- B Menjamin kemajuan ekonomi negara
- C Membentuk masyarakat yang bersatu
- D Menghalang perluasan kuasa British

SISTEM JEMAAH MENTERI KELANTAN	
JAWATAN	TUGAS
Jemaah Penasihat Raja	X

Penubuhan Jemaah Menteri di atas membuktikan bahawa Kelantan sudah mempunyai sistem pentadbiran yang mantap .

Apakah X ?

- A Mengendalikan harta benda
- B Menguruskan pertahanan negeri
- C Mengurus perkara bukan rahsia
- D Mengendalikan istiadat rasmi negara

29 Mengapa ketiga-tiga tokoh berikut menentang Malayan Union yang diperkenalkan di Tanah Melayu pada tahun 1946 ?

Sir Cecil Clementi	Sir George Maxwell	Sir Frank Swettenham
--------------------	--------------------	----------------------

- A Penyingkiran dalam rundingan
- B Penglibatan golongan imigran
- C Penolakan dasar menakluk
- D Penafian hak minoriti

30

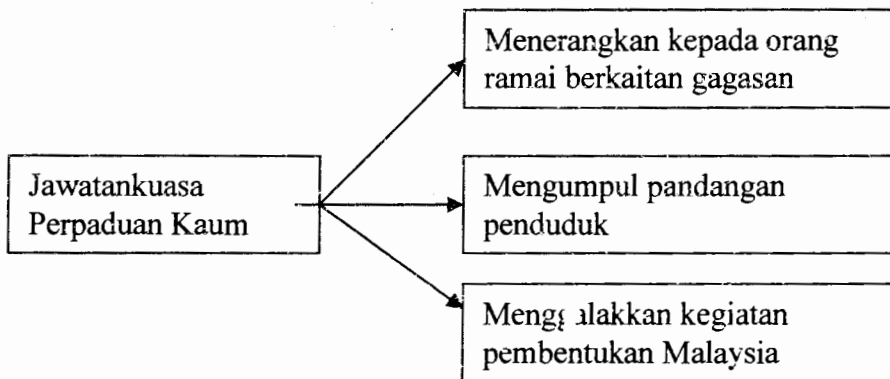
8 Februari 1946
Pengistiharan penyerahan Sarawak kepada British dibuat oleh Vyner Brooke

Apakah kesan yang akan diterima oleh rakyat Sarawak melalui perisytiharan tersebut ?

- A Pemantapan politik tempatan
- B Melambatkan kemerdekaan
- C Meminggirkan golongan pembesar
- D Pembelaan kaum peribumi

- 31 Mengapakah pengenalan Sistem Ahli di Tanah Melayu pada tahun 1951 tidak ditentang oleh rakyat ?
- A Membela kaum Melayu
 - B Mengawal golongan imigran
 - C Menghalang penjajahan British
 - D Mewujudkan perpaduan
- 32 Apakah kepentingan Perjanjian Persekutuan Tanah Melayu 1957 kepada penduduk tempatan ?
- A Hak mutlak pentadbiran
 - B Penyingkiran golongan imigran
 - C Pengagihan kuasa memerintah
 - D Hargai prinsip kerakyatan
- 33 Mengapakah Lee Kuan Yew mendesak British menggabungkan Singapura dan Persekutuan Tanah Melayu ?
- A Kemenangan dalam pilihanraya
 - B Perkembangan pengaruh komunis
 - C Rancangan untuk membentuk kerajaan
 - D Harapan untuk mengawal pemerintahan

- 34 Rajah berikut menerangkan tentang peranan Jawatankuasa Perpaduan Kaum [JPPK] yang ditubuhkan di Singapura pada Julai 1961.



Apakah sumbangan jawatankuasa tersebut ?

- A Langkah pembentukan Malaysia
- B Permulaan hubungan politik serantau
- C Penglibatan rakyat dalam pemerintahan
- D Latihan awal pentadbiran demokrasi

- 35 En Abu telah dilantik menjadi Ahli Dewan Negara yang digelar Senator. Apakah keistimewaan yang diperolehi beliau

- I Setaraf dengan Ahli Parlimen
- II Mengetuai sesebuah kementerian
- III Memegang jawatan selama sepuluh tahun
- IV Boleh dilantik sebagai Jemaah Menteri

- A I dan II
- B I dan IV
- C II dan III
- D III dan IV

36 Semua hakim dilantik oleh Yang Dipertuan Agong dengan nasihat Perdana Menteri.

Mengapakah hakim tidak dibenarkan mengambil bahagian dalam politik ?

- A Kekangan jangka masa bertugas
- B Pertindanan bidang kuasa yang ada
- C Jaminan kesaksamaan undang-undang
- D Keutamaan keselamatan peribadi

37 Apakah sebab pencapaian Rancangan Malaya Pertama[1956-1960] kurang memberansangkan ?

- A Penafian peranan golongan imigran
- B Halangan pemerintahan British
- C Menerima ancaman komunis
- D Mengalami masalah teknikal

38.

Dasar Kependudukan Dikemukakan oleh Perdana Menteri Malaysia pada 29 Mac 1984.

Mengapakah dasar tersebut bermatlamat ingin mencapai sasaran 70 juta penduduk pada tahun 2100 ?

- A Peningkatan pendapatan individu
- B Perluasan pasaran barangan
- C Persaingan dengan negara jiran
- D Pertambahan peluang pekerjaan

39 Mengapakah Negara-negara Dunia Ketiga menjadi rebutan dua kuasa besar berikut selepas perang Dunia Kedua?

- Amerika Syarikat
- Soviet Union

- A Perluasan pengaruh
- B Pertindihan ideologi
- C Pembinaan identiti
- D Penguasaan tenaga

40 Senarai berikut merupakan antara negara –negara Islam kurang maju.

Sudan

Nigeria

Chad

Apakah bantuan yang diperolehi oleh negara-negara Islam tersebut daripada Pertubuhan Persidangan Islam (OIC) ?

- A Kumpulan perubatan moden
- B Memasarkan bahan mentah
- C Pasukan tentera pengaman
- D Pembinaan pusat pendidikan

KERTAS SOALAN TAMAT